

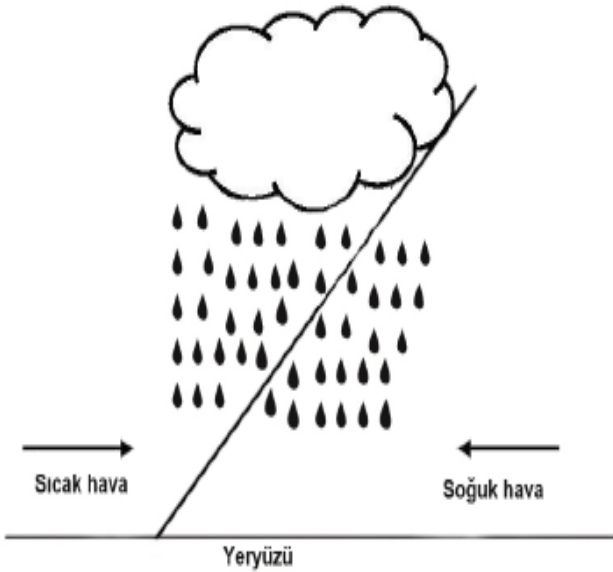
**Soru 1:**

Aşağıdaki tabloda deniz seviyesinde bulunan beş merkezin en sıcak ve en soğuk aya ait ortalama sıcaklık değerleri verilmiştir.

Merkezler	En Sıcak Ay (°C)	En Soğuk Ay (°C)
I	20	4
II	15	-15
III	28	10
IV	23	6
V	26	23

Buna göre, diğer koşullar eşit kabul edildiğinde ve sadece Güneş ışınlarının düşme açısının sıcaklık üzerindeki etkisi göz önüne alındığında, hangi merkezin Ekvator'a uzaklığının en az olduğu söylenebilir?

- A) I
- B) II
- C) III
- D) IV
- E) V

**Soru 2:**

Yukarıdaki şekilde görülen yağış türünün etkili olduğu bir yer ile ilgili olarak verilen bilgilerden hangisi kesin olarak yanlıştır?

- A) Yükselici hava hareketi etkili olmaktadır.
- B) Yağışların oluşumunda enlem etkilidir.
- C) İtalya'da kış mevsiminde bu tür yağışlar görülür.
- D) 60° enleminde yaz mevsiminde de görülür.
- E) Ekvator'da alizelerin karşılaşması sonucu oluşur

**Soru 3:**

**Bir hava kütleinin;**

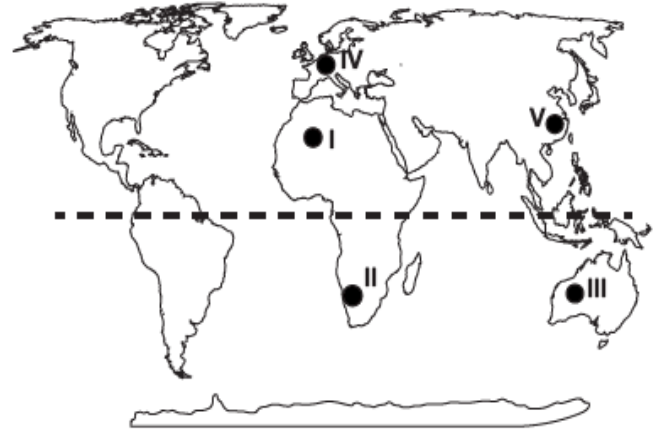
- I. Yükselmesi,
- II. Kendinden daha soğuk bir hava kütleisiyle karşılaşması,
- III. Alçalması,
- IV. Daha soğuk bir bölgeden geçmesi

**durumlarından hangileri gerçekleştiğinde yağış olabilir?**

- A) I ve II
- B) II ve IV
- C) Yalnız II
- D) I, II ve IV
- E) III ve IV

**Soru 4:**

Sıcaklık ile mutlak nem ve maksimum nem doğru orantılıdır



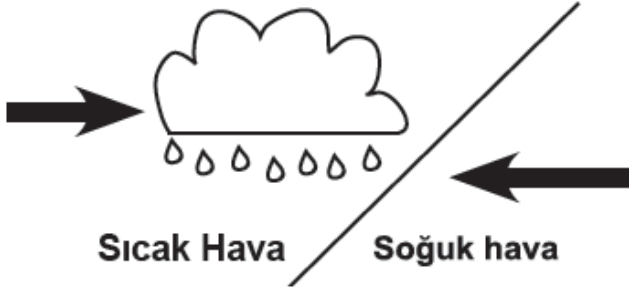
Haritada işaretli noktalardan hangisinde maksimum nem oranı temmuz ayında en yüksektir?

- A) I
- B) II
- C) III
- D) IV
- E) V

**Soru 5:**

Aşağıdaki ülkelerden hangisinde enlem etkisine bağlı olarak sıcaklık değişimi daha azdır?

- A) Şili
- B) Çin
- C) Suudi Arabistan
- D) Hindistan
- E) Türkiye

**Soru 6:**

Yukarıdaki şekilde 60° enlemlerinde oluşan bir yağış tipi gösterilmiştir.

**Bu yağış tipinin oluşumunda aşağıdaki rüzgarlardan hangisi etkili olmuştur?**

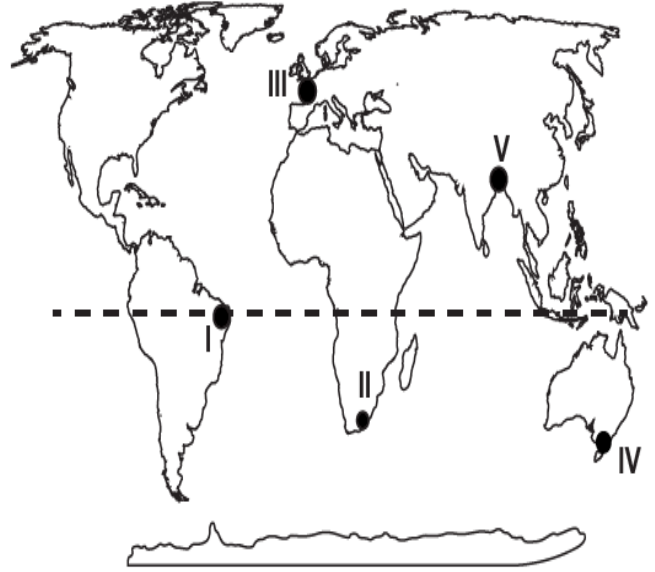
- A) Föhn -----> Etezyen
- B) Alize -----> Alize
- C) Alize -----> Batı
- D) Batı -----> Kutup
- E) Kutup -----> Alize

**Soru 7:**

- I. Yüksek enlemlerden alçak enlemlere gidildikçe sıcaklık .....
- II. Kış mevsiminde kıyılardan iç kesimlere doğru gidildikçe sıcaklık .....
- III. Yaz mevsiminde iç kesimlerden kıyıya doğru gidildikçe sıcaklık .....
- IV. Bir dağ yamacı boyunca yükseldikçe sıcaklık .....
- V. Güneş ışınlarının yere düşme açısı daraldıkça sıcaklık .....

**Yukarıdaki cümlelerden hangisinde "azalır" ifadesi kullanıldığında cümle yanlış tamamlanmış olur?**

- A) I
- B) II
- C) III
- D) IV
- E) V

**Soru 8:**

**Haritada işaretli yerlerden hangisinde yıl boyunca görülen yağışlar konveksiyoneldir?**

- A) I
- B) II
- C) III
- D) IV
- E) V

**Soru 9:**

Merkez	Mutlak nem(gr)	Bağıl nem(%)
I	10	58
II	10	85
III	10	56
IV	10	21
V	10	50

Yukarıdaki tabloda beş merkezin mutlak nem ve bağıl nem oranları verilmiştir.

**Buna göre hangi merkezin maksimum nemi en düşüktür?**

- A) I
- B) II
- C) III
- D) IV
- E) V

**Soru 10:**

Sıcak ve soğuk hava kütlelerinin karşılaşma alanlarında cephe yağışları görülür.

**Buna göre aşağıdaki ülkelerden hangisinde cephe yağışının görülme olasılığı en fazladır?**

- A) Malezya
- B) Büyük Sahra
- C) Kongo havzası
- D) Brezilya
- E) Fransa

**CEVAPLAR: 1-E 2-E 3-D 4-A 5-E 6-D 7-A 8-A 9-B 10-E**