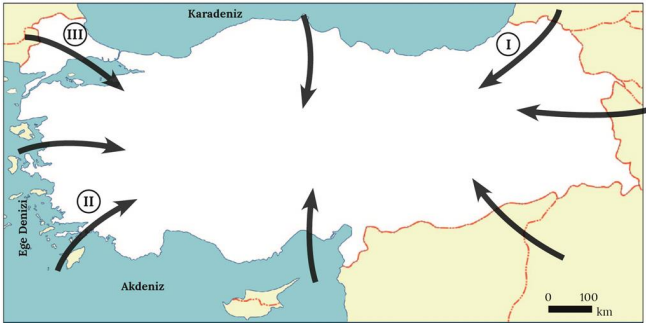
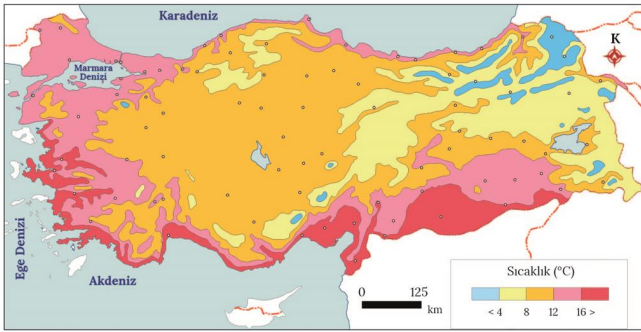


Soru 1:

Türkiye sahip olduğu coğrafi konum itibarıyla çeşitli yerel rüzgârların etkisindedir.

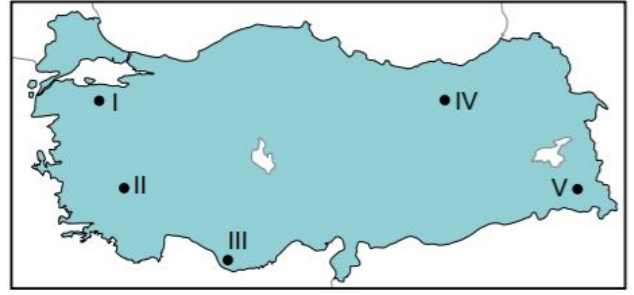
Buna göre haritada numaralandırılan rüzgârların isimleri, hangisinde sırasıyla verilmiştir?

- A) Lodos - Karayel - Poyraz
- B) Karayel - Lodos - Poyraz
- C) Poyraz - Karayel - Lodos
- D) Lodos - Poyraz - Karayel
- E) Poyraz - Lodos - Karayel

Soru 2:

Yıllık ortalama sıcaklık dağılışının verildiği yukarıdaki haritaya göre aşağıdakilerden hangisi söylenemez?

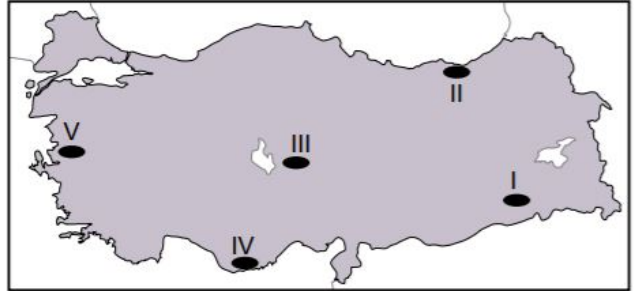
- A) En yüksek sıcaklıklar, Akdeniz ve Güney Ege kıyıları ile Güneydoğu Anadolu'da görülür.
- B) Sıcaklık dağılışında enlemin etkisi belirgin olarak görülmektedir.
- C) Van Gölü çevresinde sıcaklık değerleri 8 °C ile 12 °C arasındadır.
- D) En düşük sıcaklıklar Kuzeydoğu Anadolu ile Doğu Anadolu'da görülür.
- E) Sıcaklık değerleri, Karadeniz kıyılarında Orta Anadolu ve Doğu Anadolu'ya göre daha yüksektir.

Soru 3:

Yukarıda Türkiye Haritası üzerinde beş farklı nokta işaretlenmiştir.

Temmuz ayında verilen noktalardan hangisinde buharlaşma miktarının daha fazla olması beklenir?

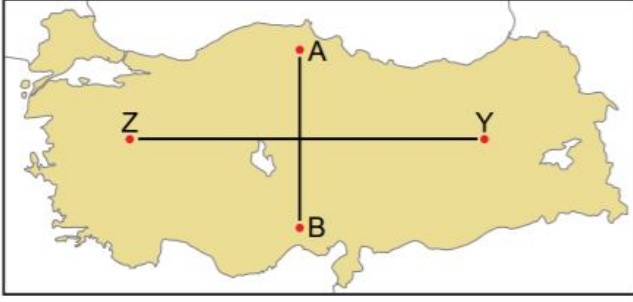
- A) I
- B) II
- C) III
- D) IV
- E) V

Soru 4:

Yukarıda Türkiye Haritası üzerinde yağış özellikleri olan beş yer verilmiştir.

Bu yerlerin hangisinin yağış rejimi diğerlerine göre daha düzenlidir?

- A) I
- B) II
- C) III
- D) IV
- E) V

Soru 5:

Haritada A,B,Z ve Y noktaları işaretlenmiştir.

I. A noktasından B noktasına gidildikçe ortalama sıcaklık değerleri artmaktadır.

II. Z noktasından Y noktasına gidildikçe ortalama sıcaklık değerleri azalmaktadır.

Sıcaklık değişiminin A-B ve Z-Y yönlerinde farklılık göstermesinin sebebi aşağıdakilerden hangisinde doğru verilmiştir?

<u>A-B</u>	<u>Z-Y</u>
A) Enlem	Bakı
B) Yükselti	Denizellik
C) Enlem	Yükselti
D) Yükselti	Bakı
E) Karasallık	Yükselti

Soru 6:

Kırklareli ve Gaziantep illerinin yıllık toplam yağış miktarları benzer olmasına rağmen; yaz mevsiminde kuraklık Gaziantep ilinde, Kırklareli iline göre daha fazla etkili olmaktadır.

Bu durumun temel sebebi aşağıdakilerden hangisidir?

- A) Buharlaşma miktarı
- B) Yükselti farkı
- C) Yer şekilleri özellikleri
- D) Toprak yapısı
- E) Bitki örtüsü özellikleri

Soru 7:

Ülkemizin yıllık ortalama en düşük sıcaklık değeri Kuzeydoğu Anadolu'da görülmektedir.

Bu durum üzerinde etkili olan unsurlar aşağıdakilerden hangisinde bir arada verilmiştir?

- A) Karasallık- bakı- yükselti
- B) Yükselti - bakı - denizellik
- C) Enlem - yükselti - karasallık
- D) Bakı - denizellik - hakim rüzgar yönü
- E) Soğuk su akıntıları- enlem- karasallık

Soru 8:

Aşağıdakilerden hangisi diğer dördünün nedeni olarak gösterilebilir?

- A) Sinop'ta yaz ve kış sıcaklıklarının Adana'ya göre daha az olması
- B) Ülkemizde güneyden esen rüzgarların genellikle sıcaklığı artırması
- C) Antalya'da tarım ürünlerinin Kastamonu'dan daha erken olgunlaşması
- D) Ülkemizde güneş ışınlarının geliş açısının güneyden kuzeye doğru gidildikçe azalması
- E) Akdeniz'in tuzluluk oranının Karadeniz'den fazla olması

Soru 9:

Yıllık sıcaklık farkı ülkemizin iç kesimlerinde, kıyı kesimlerine göre daha fazladır.

Bu durumun en önemli sebebi aşağıdakilerden hangisidir?

- A) Kıyılarda ortalama yükseltinin iç kesimlere göre az olması
- B) Kıyılarda mutlak nem miktarının iç kesimlere göre fazla olması
- C) İç kesimlerde kar yağışının kıyılarına göre daha fazla olması
- D) İç kesimlerde bitki örtüsünün kıyı kesimlere göre daha zayıf olması
- E) İç kesimlerde yüksek düzlüklerin kıyı kesimlere göre daha fazla olması

Soru 10:

Ülkemizin iklim özellikleri üzerinde aşağıda verilenlerden hangisi etkili değildir?

- A) Ortalama yükselti değerleri
- B) Dağların uzanış yönü
- C) Basınç merkezleri
- D) Okyanus akıntıları
- E) Enlem faktörü

CEVAPLAR: 1-E 2-B 3-C 4-B 5-C 6-A 7-C 8-D 9-B 10-D