

Soru 1:

Enlem, iklim ve toprak özellikleri düşünüldüğünde Hindistan'da aşağıdakilerden hangisi görülmez?

- A) Tropikal muson ormanları
- B) Geniş yapraklı ormanlar
- C) Savanlar
- D) Kurakçıl bitkiler
- E) Tundralar

Soru 2:

Yukarıda Afrika Kıtası'na ait bir harita ve bu harita üzerinde bir güzergah belirlenmiştir.

Yukarıdaki haritada güneyden kuzeye doğru hareket edildiğinde güzergahın başından sonuna doğru;

- I- Yükselti genel olarak azalmıştır.
- II- Yarım küre değişmiştir.
- III- Farklı büyük iklimler görülmüştür.
- IV- Yolculuğun sonunda Ekvatorial iklimi görülür.

tespitlerden hangileri doğrudur?

- A) I ve II
- B) I ve III
- C) II ve III
- D) II ve IV
- E) III ve IV

Soru 3:

Deniz, ailesiyle tatil için başka bir şehre giderken verdikleri molada daha önce görmediği bir bitki türüyle karşılaşır. Bu bitkiyi incelerken bitkinin sert keçeli yüzeyinin olduğunu ve reçineli bir tabakadan oluştuğunu fark ediyor. Babasıyla bu bitkiden bir örnek almak istediklerinde bitkinin köklerinin çok derinde olduğunu anlıyor. Bu gezinti esnasında Deniz'in gözüne sanki bir keçinin boynuzlarına benzeyen sert ve içi çekirdekli bir cisim çarpıyor. Annesi de bu bitkinin Deniz'in her sabah kahvaltıda tattığı yiyecek olduğunu söylüyor. Anne, topladığı bir avuç yaprağı yemeklere aroma katmak için kullanacağını, aynı zamanda bu yaprakların yağı ile de sabun ve şampuan üretildiğini anlatıyor Deniz'e.

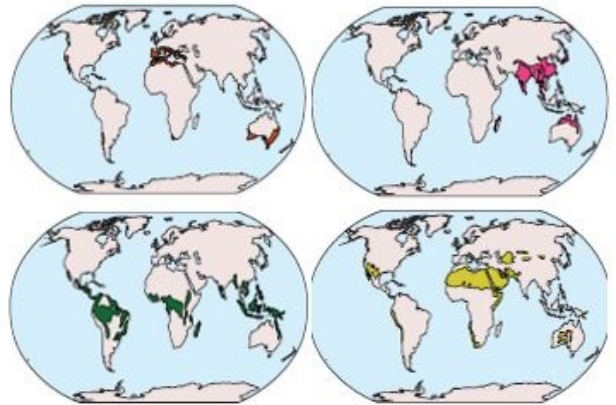
Buna göre Deniz'in gördüğü bitki topluluğu ve bitki türleri aşağıdakilerden hangisinde doğru olarak verilmiştir?

- A) Bozkır – Sığırkuyruğu – Gelincik
- B) Maki – Keçiboynuzu – Defne
- C) Psödomaki – Fındık – Dişbudak
- D) Garig – Lavanta – Kekik
- E) Maki – Zakkum – Böğürtlen

Soru 4:

Aşağıdaki iklim tiplerinden hangisinde sıcaklığın arttığı dönem ile yağışın arttığı dönem birbiriyle benzerlik göstermez?

- A) Savan
- B) Muson
- C) Tundra
- D) Akdeniz
- E) Sert Karasal

Soru 5:

Aşağıda verilenlerden hangisi yukarıdaki haritalardan hiçbiri ile ilişkilendirilemez?

- A) Yıllık yağış ortalaması 200 mm'nin altındadır.
- B) Kış mevsimi ılık geçer.
- C) Yıllık yağış miktarı fazla ve düzenlidir.
- D) Yazın okyanus kökenli rüzgârlarla bol yağış alır.
- E) Sıcaklık yıl içinde en fazla 10 C'yi görür.

Soru 6:

Yağışın yıl içinde aylara göre gösterdiği değişime yağış rejimi adı verilir. Yağışın aylara göre dağılımının düzenli olduğu bölgelerde yağış rejimi de düzenlidir.

Buna göre,

- I. Akdeniz
- II. Okyanusal
- III. Ekvatorial
- IV. Savan

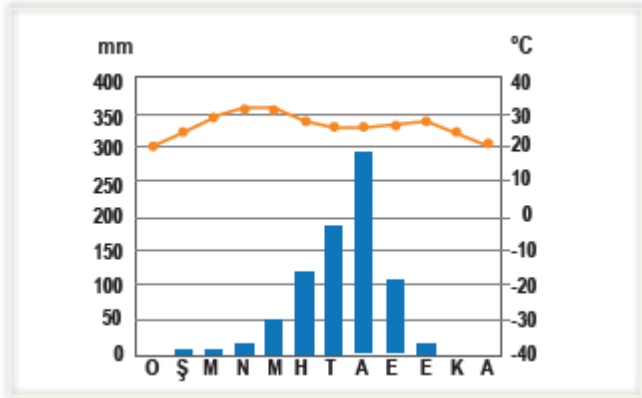
iklim tiplerinden hangilerinde yağış rejimi düzenlidir?

- A) I ve II
- B) I ve III
- C) I ve IV
- D) II ve III
- E) III ve IV

Soru 7:

Aşağıdaki iklim tiplerinden hangisi hem sıcak hem de ılıman kuşakta geniş alanlarda görülmektedir?

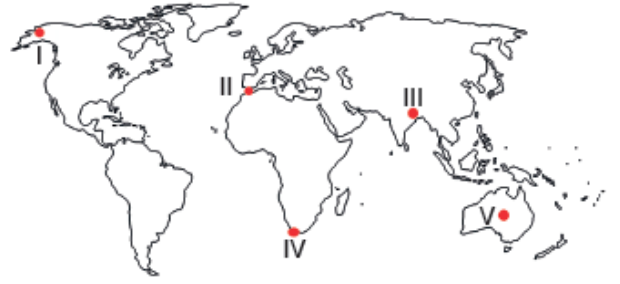
- A) Sert karasal
- B) Ekvatorial
- C) Tundra
- D) Savan
- E) Çöl

Soru 8:

Yukarıdaki grafikte bir merkeze ait aylık sıcaklık ve yağış değerleri gösterilmiştir.

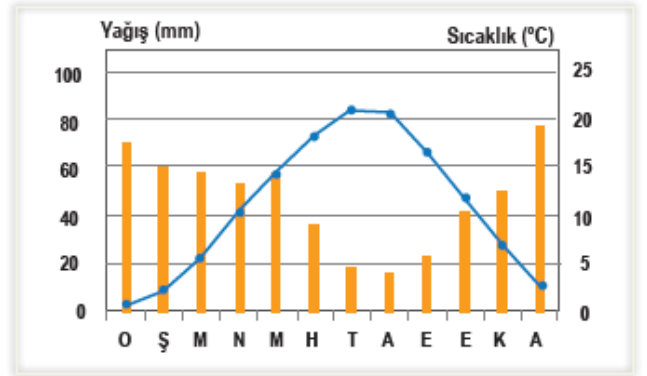
Buna göre sıcaklık ve yağış grafiği verilen merkezde etkili olan iklim tipi aşağıdakilerden hangisidir?

- A) Tundra
- B) Savan
- C) Akdeniz
- D) Ekvatorial
- E) Sert karasal

Soru 9:

Yukarıdaki haritada yerleri gösterilen bölgelerden hangi ikisinde aynı iklim tipi görülmektedir?

- A) I ve II
- B) I ve V
- C) II ve III
- D) II ve IV
- E) IV ve V

Soru 10:

Yukarıda bir bölgenin aylık sıcaklık ve yağış grafiği verilmiştir.

Grafik incelenirse bölge hakkında aşağıdaki sonuçlardan hangisine ulaşamaz?

- A) İlkbahar mevsimi yağışlı geçer.
- B) En az yağış eylül ayında düşer.
- C) Yıllık sıcaklık farkı 15°C'den fazladır.
- D) En yüksek sıcaklık temmuz ayında yaşanır.
- E) Aralık ayında sıcaklık, ocak ayından daha yüksektir.

CEVAPLAR: 1-E 2-B 3-B 4-D 5-E 6-D 7-E 8-B 9-D 10-B